

--	--	--	--

KOD UCZNIĄ

**ZESTAW ZADAŃ KONKURSOWYCH Z HISTORII  
DLA UCZNIÓW SZKOŁY PODSTAWOWEJ  
ROK SZKOLNY 2015/2016**

**ETAP SZKOLNY**

**Instrukcja dla ucznia**

1. Zestaw konkursowy zawiera 15 zadań.
2. Przed rozpoczęciem pracy, sprawdź, czy zestaw zadań jest kompletny.
3. Jeżeli zauważysz usterki, zgłoś je komisji konkursowej.
4. Zadania czytaj uważnie i ze zrozumieniem.
5. Rozwiązania zapisuj długopisem lub piórem.
6. Rozwiązania zapisane ołówkiem nie będą oceniane.
7. Odpowiedzi zapisuj w miejscu na to przeznaczonym.
8. W nawiasach obok numerów zadań podano liczbę punktów możliwych do uzyskania za każde zadanie.
9. Nie używaj korektora, a błędne zapisy wyraźnie przekreśl.
10. **Pracuj samodzielnie.**

Czas pracy:  
**60 minut**

Liczba punktów  
możliwych  
do uzyskania: 30  
Do następnego etapu  
zakwalifikujesz się,  
jeżeli uzyskasz co  
najmniej 27 punktów.

**POWODZENIA!**

Wypełnia komisja konkursowa

Nr zadania	1	2	3	4	5	6	7	8
Liczba punktów								
Nr zadania	9	10	11	12	13	14	15	Razem
Liczba punktów								

Zatwierdzam

Przewodnicząca  
Wojewódzkiej Komisji Konkursowej  
*Ewa Zakościelna*  
mgr Ewa Zakościelna

Kurator Oświaty  
w Lublinie  
*Krzysztof Babisz*  
mgr Krzysztof Babisz

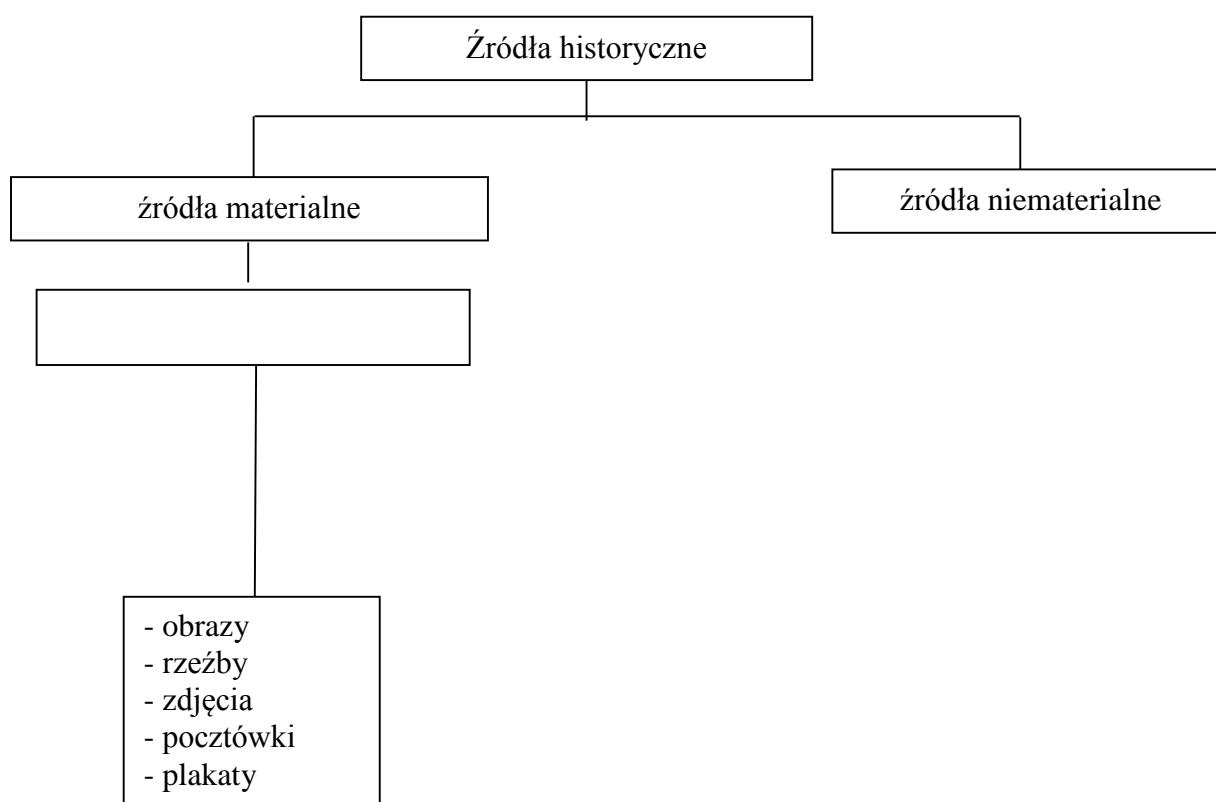
**Zadanie 1. (0 – 4 p.)**

Przyporządkuj wydarzenie do właściwej epoki historycznej. Wstaw znak X w odpowiednie miejsce w tabelce.

Wydarzenie	starożytność	średniowiecze	nowożytność
Założenie Akademii Krakowskiej.			
Powstanie Spartakusa w Rzymie			
Zjazd Gnieźnieński			
Pierwsze Igrzyska Olimpijskie			

**Zadanie 2. (0 – 1 p.)**

Uzupełnij schemat źródeł historycznych. Nazwij kategorię źródeł historycznych.



**Zadanie 3. (0 – 1 p.)**

Według legendy Romulus w 753 r. p.n.e. założył Rzym. Oblicz, ile lat minęło od tego wydarzenia.

.....

.....

.....

.....

**Zadanie 4. (0 – 4 p.)**

Lubelszczyzna była i jest miejscem wielu religii. Dopisz do nazwy świątyni właściwą religię lub wyznanie.

- a) Zbór - wyznanie .....
- b) Synagoga - religia .....
- c) Cerkiew - wyznanie .....
- d) Kościół - wyznanie.....

**Zadanie 5. (0 – 1 p.)**

Zaznacz na mapie znakiem X województwo, w którym mieszka w Polsce najwięcej Litwinów.



Źródło: wikipedia

**Zadanie 6. (0 – 1 p.)**

**Która z ilustracji przedstawia godło państwa polskiego z czasów piastowskich? Postaw znak X przy właściwym godle.**



Źródło: wikipedia

A.....

B.....

C.....

D.....

E.....

**Zadanie 7. (0 – 1 p.)**

**Bogowie greccy posługiwali się atrybutami (znakami rozpoznawczymi). Połącz boga z atrybutem.**

a) Zeus .....

1. sowa, 2. lira, 3. piorun (grom)

b) Atena .....

c) Apollo .....

**Zadanie 8. (0 – 2 p.)**

**Przeczytaj uważnie tekst i wykonaj polecenia.**

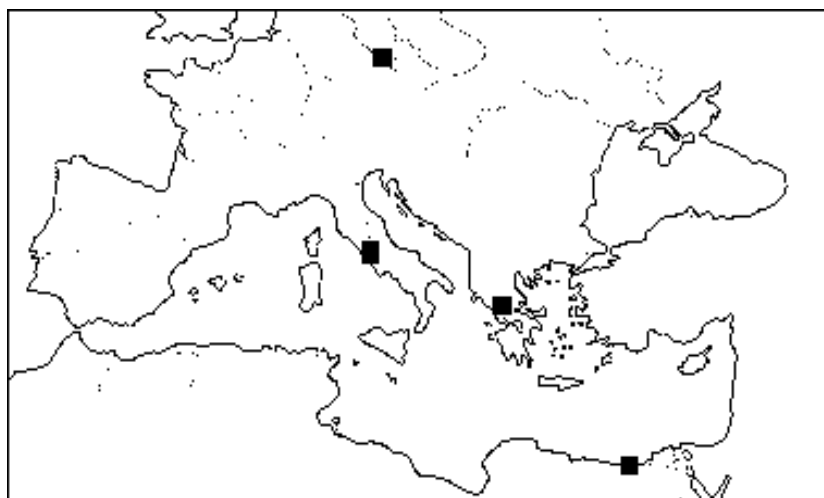
*Otwarcie (...) zainauguował cesarz Tytus rozpoczęciem studniowych nieprzerwanych Igrzysk. Na arenie padło wówczas kilka tysięcy zwierząt, walczyły ze sobą zastępy gladiatorów (około 900), ponadto odbyła się bitwa morska. Tak więc obiekt powstawał ponad 10 lat (od około 70 do 82 r. n. e.).*

Źródło: [www.imperiumromanum.edu.pl](http://www.imperiumromanum.edu.pl)

a) Jaką nazwę nosi opisana budowla?

.....

b) Zaznacz na mapce znakiem X miasto, w którym znajduje się opisany obiekt.



**Zadanie 9. (0 – 5 p.)**

**Na podstawie tekstu wypełnij prawidłowo schemat ukazujący skróconą genealogię władców piastowskich z początków państwa polskiego.**

Pierwszym władcą z dynastii Piastów był książę Mieszko I. Jego syn Bolesław zwany Chrobrym w 1025 roku koronował się na króla Polski. Bolesław Chrobry miał dwóch synów: Bezpryma i Mieszka II. Synem Mieszka II był Kazimierz Odnowiciel. Synem Kazimierza był Bolesław Śmiały. Po nim władzę w kraju objął drugi syn Kazimierza Władysław Herman. Jego synem był Bolesław Krzywousty.

A) Na podstawie tekstu określ stopnie pokrewieństwa, jakie łączyły wymienionych w zdaniu władców z dynastii Piastów.

a) Mieszko II był ..... Władysława Hermana.

b) Bezprym był .....Kazimierza Odnowiciela.


c) Bolesław Śmiały był .....Bolesława Chrobrego.

B) Wypisz z tekstu imiona książąt, którzy byli braćmi.

.....  
.....

**Zadanie 10. (0 – 3 p.)**

**Wymień trzy najwyższe organy władzy w Polsce reprezentujące władzę  
a) ustawodawczą, b) wykonawczą, c) sędziowską.**



**Zadanie 11. (0 – 1 p.)**

**Z którą postacią historyczną związany jest przedstawiony na zdjęciu obiekt? Podkreśl wybraną osobę.**



- a) Mieszko I
- b) Otton III
- c) św. Brunon
- d) św. Wojciech

**Zadanie 12. (0 – 2 p.)**

Kto i kiedy ofiarował Bolesławowi Chrobremu widoczną na ilustracji włócznię św. Maurycego?



.....

.....

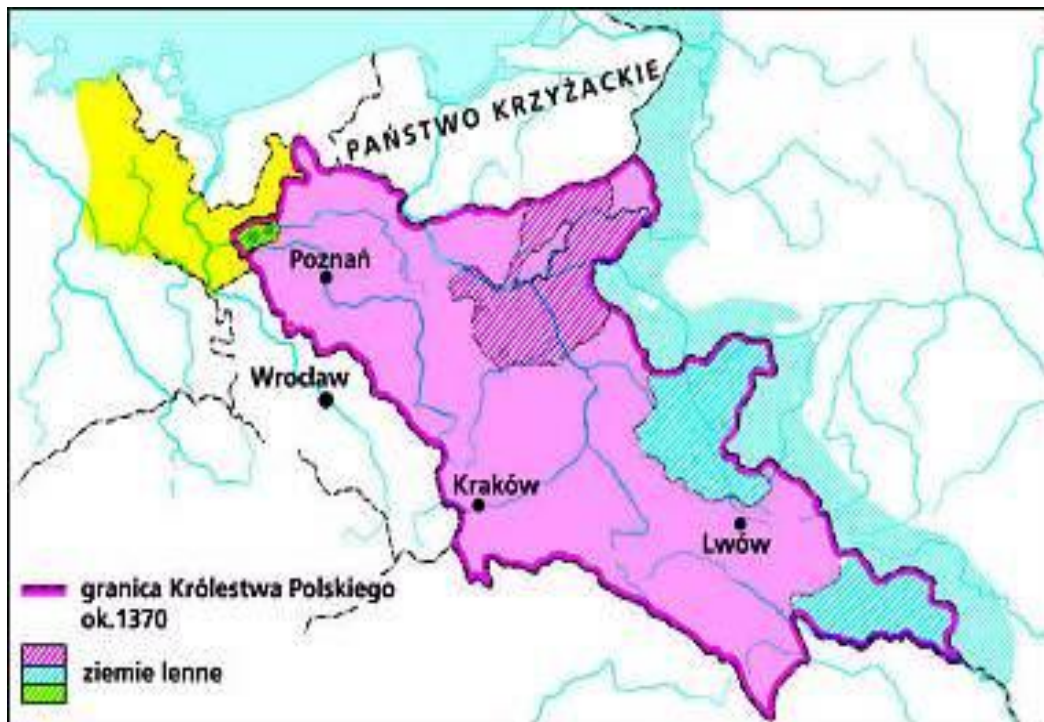
**Zadanie 13. (0 – 1 p.)**

**Podkreśl dwa wydarzenia z czasów panowania Mieszka I.**

śmierć biskupa Stanisława, śmierć biskupa Wojciecha,  
pokój w Budziszynie, bitwa pod Cedynią, zjazd gnieźnieński,  
założenie biskupstwa w Poznaniu, założenie biskupstwa w Krakowie

**Zadanie 14. (0 – 1 p.)**

Zaznacz znakiem X miasto widoczne na mapie, przyłączone do Polski przez Kazimierza Wielkiego.



Źródło: wikipedia

**Zadanie 15. (0 – 2 p.)**

Zapoznaj się z poniższym tekstem i odpowiedz na pytania.

*Biesiady trwały więc na Wawelu, w mieście, w kwaterach rozlokowanych po mieście gości. Nie omieszkał też rzeczony (...) włączyć się we wszechogarniającą atmosferę radosnej zabawy. „Zaprosił na ucztę do swego domu pięciu królów i wszystkich książąt, panów i gości”. Główne miejsce przy stole oddał (...), sadzając po obu jego stronach cesarza (...) i króla (...), a dalej króla (...). Ugościł wszystkich znakomitym jadłem i napitkami, a na koniec obdarował świetnymi prezentami. Samemu królowi (...) wręczył dar najwspanialszy, bo wart – drobnostka – 100 tys. florenów.*

Źródło: K. Mikulski, Krakowski zjazd monarchów, w: [www.mowiawieki.pl](http://www.mowiawieki.pl)

A) Pod jaką nazwą przeszła do historii opisana uczta?

.....

B) Podaj imię co najmniej jednego koronowanego władcy (króla) uczestniczącego w owej uczcie.

.....